


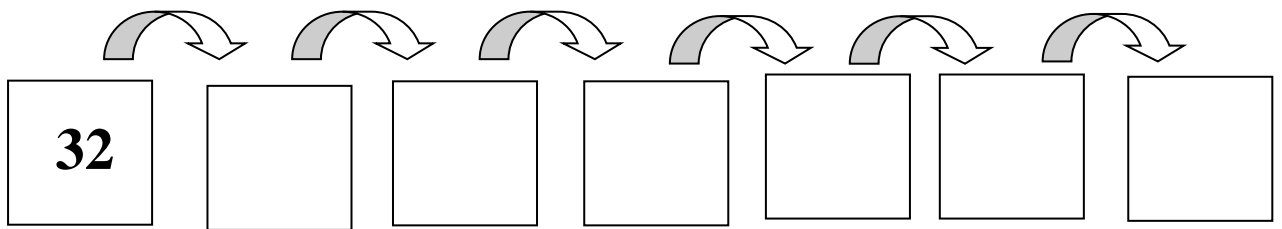
FICHAS NÚMEROS 1 AL 50

1. Cuenta, rodea 10 céntimos y escribe el número:

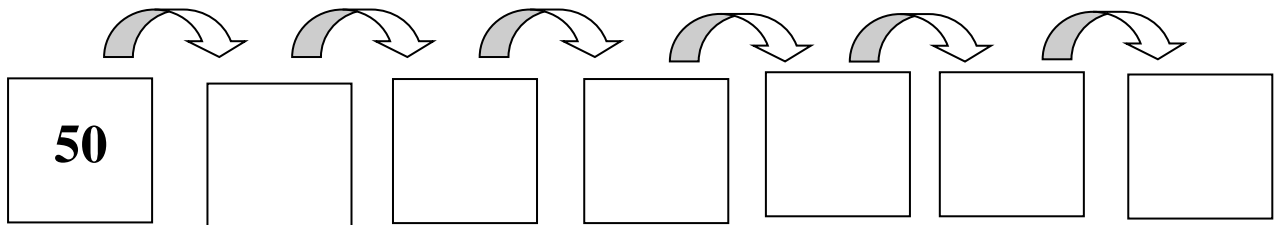


2.- Escribe estos números:

3.- Continúa la serie:



4.- Continúa la serie:



5. Calcula:

$$\begin{array}{r} 2 \ 3 \\ + \ 4 \ 5 \\ \hline \end{array}$$

$$\begin{array}{r} 4 \ 4 \\ + \ 5 \ 8 \\ \hline \end{array}$$

$$\begin{array}{r} 5 \ 9 \\ + \ 3 \ 3 \\ \hline \end{array}$$

$$\begin{array}{r} 57 \\ - 12 \\ \hline \end{array}$$

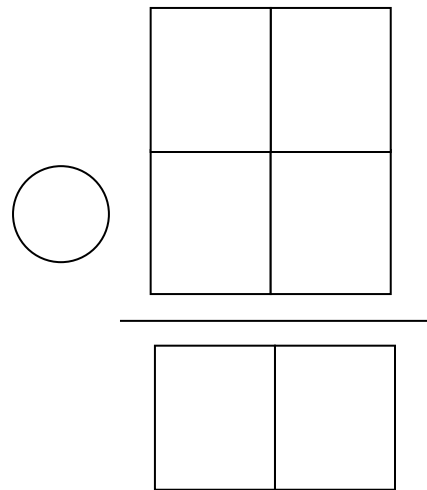

$$\begin{array}{r} 99 \\ - 66 \\ \hline \end{array}$$

$$\begin{array}{r} 59 \\ - 43 \\ \hline \end{array}$$

6. Cuenta de 2 en 2:

30, _____, _____, _____, _____, _____, _____, _____,
 _____, _____, _____, _____, _____, _____, _____, _____.

Voy al supermercado con 16 euros y compro un paquete de galletas y zumos de naranja y me gasto 6 euros. ¿Cuánto dinero me quedará?



RESULTADO: