


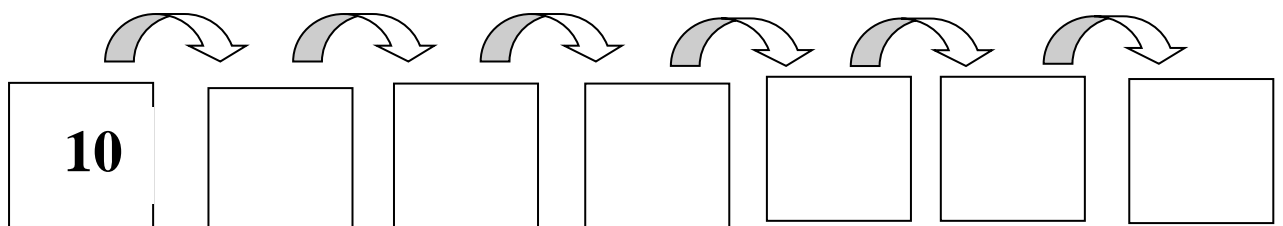


# FICHAS NÚMEROS 1 AL 20 PRIMAVERA

1. Cuenta, rodea 10 y escribe el número:

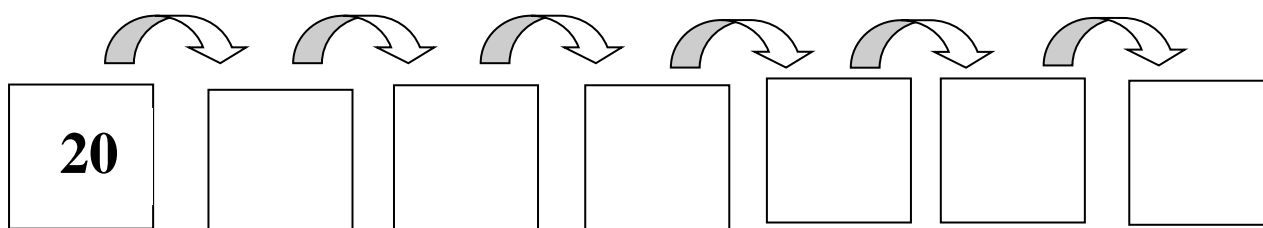


2.- Continúa la serie:



3.- Escribe estos números:


4.- Continúa la serie:



5. Calcula:

$$\begin{array}{r} 5 \\ + 5 \\ \hline \square \end{array}$$

$$\begin{array}{r} 9 \\ + 3 \\ \hline \square \end{array}$$

$$\begin{array}{r} 6 \\ + 8 \\ \hline \square \end{array}$$

6. Escribe los números que faltan:

10		12			15	
----	--	----	--	--	----	--

7. Calcula:


$$\begin{array}{r} 5 \\ - 3 \\ \hline \square \end{array}$$

$$\begin{array}{r} 9 \\ - 2 \\ \hline \square \end{array}$$

$$\begin{array}{r} 6 \\ - 3 \\ \hline \square \end{array}$$

8. Resuelve:

En la colmena había 4 abejas y llegaron 5 más.  
¿Cuántas abejas hay ahora?



$$\begin{array}{r} \square \\ \square \\ \hline \square \end{array}$$

RESULTADO: